


## PRACOVNÍ LIST – RYBY A RYBNÍKÁŘSTVÍ

### 1. Popiš tělo kapra.



**Nápověda:** hlava, žábry, hřbetní ploutev, ocasová ploutev, řitní ploutev, břišní ploutev, prsní ploutev

Rybníkářství je ..... v rybníce, uskutečňovaný k zajištění produkce ryb a rybího masa nebo produkce rybí násady pro rybníky anebo pro zarybňování ..... Na českém území má rybníkářství dlouholetou tradici, která sahá až do ..... Jeho rozvoj v Česku je nerozlučně spojen s rodem ..... Tradičními rybníkářskými oblastmi České republiky jsou ....., Vodňansko, Novohradsko, Českobudějovicko a Jindřichohradecko. V Česku se celkem nachází okolo 21 000 rybníků. Rybníky představují ..... předků významně utvářející krajinný ráz. Některé rybníční soustavy spolu s okolní krajinou a její architekturou splňují i přísná kritéria pro zařazení na Seznam světového kulturního dědictví. Příkladem může být ..... nebo rozsáhlé rybníční soustavy v rovinaté krajině Třeboňska.

**Nápověda:** chov a lov ryb, rybářských revírů, 12. století, Rožmberků, Třeboňsko, dědictví, Lednicko-valtický areál

## 2. Znáš správnou odpověď?

- Jaká je naše nejběžnější a nejznámější ryba?

kapr    štika

- Ryby mají všechny ploutve párové.

ano    ne

- Co nepatří do planktonu?

řasy - sinice - prvoci - netopýr

- Čím se neživí dravé ryby?

hmyzem - drobnými korýši - rostlinami - planktonem - rybami

- Tělo ryb je nadlehčováno.....

plynovým měchýřem    balonkem

- Jaký je rozdíl mezi rybníkem a jezerem? Znáš nějaký rybník, který má ve svém názvu jezero?

rybník je uměle vytvořený člověkem                      jezero je uměle vytvořeno člověkem


- Mohu si dojet k rybníku a ulovit si rybu?

ano    ne

- Popiš, co je to výlov a kdy probíhá?



### 3. Přiřaď název ryby k obrázku.



kapr obecný


štika obecná

pstruh obecný

sumec velký

okoun říční

cejn velký



### 4. Kdo chytí jakou rybu?

