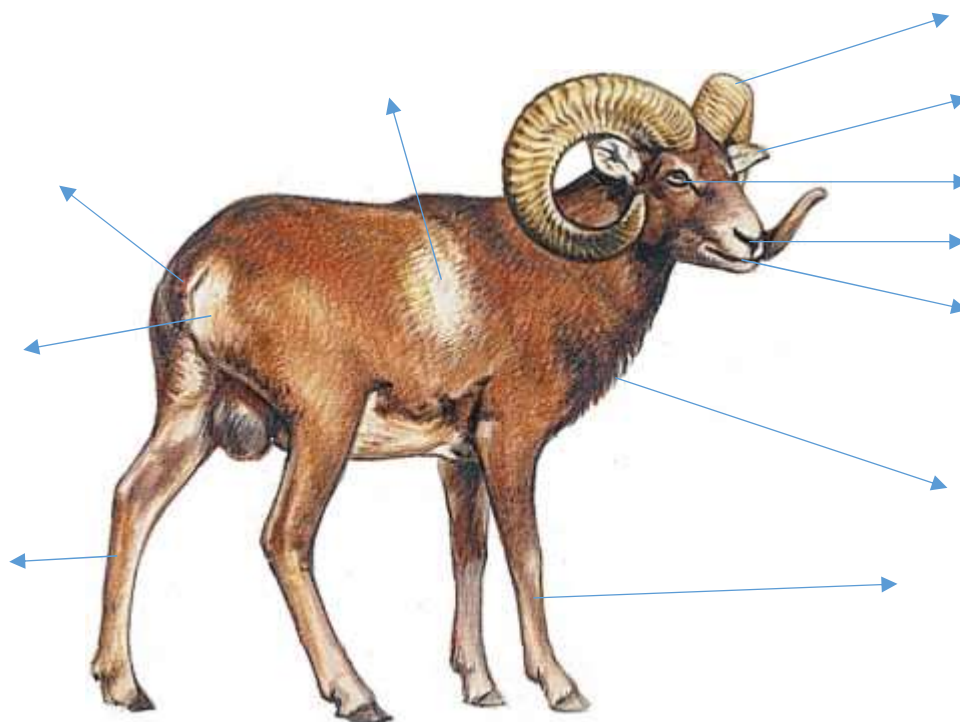


## PRACOVNÍ LIST – MUFLON

### 1. Popiš muflona.









**Nápověda:** toulec, slecho, světlo, větrník, svírák, rouno, přední běh, zadní běh, kelka, zrcátko, sedlo

Muflon je jediný volně žijící zástupce rodu ..... v evropské i české přírodě. Muflon může být dlouhý 100 až 125 cm, v kohoutku dosahuje výšky až 75 cm. Starší ..... dosahují váhy 50 kg, ovce kolem 35 kg. Mufloní zvěř má na hlavě ....., myslivecky označované jako ..... . Mufloní toulce se liší od paroží jelenovitých tím, že jsou ....., nevětvené, zvěř je ....., a také svým původem. Jsou produktem ..... jako srst či spárky a nemají charakter kosti. Velké, silně vyvinuté rohy nosí pouze berani, kteří je používají při ..... Bývají dlouhé až 80 cm. Muflonky jsou buďto bezrohé, nebo nosí malé růžky, dlouhé nejvýše 16 cm. Povrch toulců je ..... a podle vrubů lze poznat ..... muflona.

**Nápověda:** vrubován, věk, ovce, berani, rohy, soubojích, toulce, duté, neshazuje, kůže

2. Vybarvi obrázky a přiřaď je k prostředí, ve kterém žijí.



3. Najdi v osmisměrce alespoň 10 zvířátek.

|   |   |   |   |   |   |   |   |   |   |
|---|---|---|---|---|---|---|---|---|---|
| Z | A | J | Í | C | S | O | J | K | A |
| I | J | E | L | E | N | Z | U | B | R |
| Ž | Í | Ž | A | L | A | E | H | A | D |
| H | L | E | M | Ý | Ž | Ď | U | S | K |
| B | U | K | A | F | K | O | B | R | A |
| U | K | M | M | U | F | L | O | N | N |
| P | A | V | O | U | K | U | B | E | E |
| O | M | O | T | Ý | L | K | R | C | C |

4. Vybarvi.

