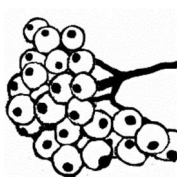




PRACOVNÍ LIST – LESNÍ PLODY



1. Na jakém stromě rostou? Nakresli listnatý, jehličnatý strom nebo keř.



2. Která veverka dojde k cíli dřív, když musí projít kolem všech žaludů.
Spoj žaludy a napiš do rámečku jejich počet.

